

# 1. SINIF

# YENİ NESİL

# DENEME SINAVI



## SINAVDAKİ SORULARIN KONU DAĞILIMI

- Türkçe** : Okuduğunu anlama, Şiir ve düzyazılarda başlık, yazar ve özellikleri, Abecesel sıralama, Kelime oluşturma, Harf(ses) bilgisi, Ünlü-ünsüz harfler, Kelimelerin harf sayısı, Hece bilgisi, Kelimelerde anlam, Görsel okuma, Kelimelerin heceleri, Görsel anlam ilişkisi, Kelime oluşturma, Zıt anlamlı kelimeler,
- Matematik** : Doğal sayılar(rakamlar), Doğal sayıları okuma ve yazma, Nesnelere sayıları, Rakamların sayısı, Onluk ve birlik kavramı, Onluk elde etme, Ritmik saymalar, Doğal sayıları karşılaştırma, Nesnelere toplama işlemi, Toplama işleminin özellikleri, Çıkarma işlemi, Problemler.
- Hayat Bilgisi** : Fiziksel özelliklerimiz, Tanışma, Okulumuzda çalışanlar, Sınıfımızın yeri, Sınıfımızdaki eşyalar, Bayrak törenleri, Sınıf kuralları, Ders araç ve gereçlerimiz, Nezaket ifadeleri, Okulda yaptığımız faaliyetler, Kendimizi tanıtmak, Aile kavramı, Okulumuzdaki teknolojik araçları, Evde nezaket ifadeleri, Görev ve sorumluluklarımız, Yemekte görgü kuralları, Sağlıklı beslenme, İhtiyaç ve isteklerimiz.
- Sınav Sorularımız** : 20 Türkçe, 20 Matematik, 20 Hayat Bilgisi sorusu vardır. Her derste sorulardan 8 tanesi çok kolay, 4 tanesi kolay, 4 tanesi orta ve 4 tanesi de zor sorulardan oluşmaktadır.

## ABECEMİZ

A'dan Z'ye kadar abece,  
Sözcüklerimiz hece hece.  
Sıralarız gündüz gece,  
Siz bize sorun sadece.

Aylarca çok emek verdik,  
Harfleri birbirine ekledik,  
Sonunda okumayı öğrendik,  
Yazın, söyleyin sadece.

Mesut Yavuztürk

Şiiri dikkatlice okuyup ilk üç soruyu cevaplayınız.

- 1- Şiirin başlığı nedir?
  - A) A'dan Z'ye
  - B) ABECEMİZ
  - C) SADECE
- 2- Şiir kaç dördlükten (kıtadan) oluşmaktadır?
  - A) 2
  - B) 4
  - C) 8
- 3- Şiirin sağ alt köşesinde kimin adı yazılır?
  - A) Şiiri yazanın adı ve soyadı
  - B) Şiiri okuyanın adı ve soyadı
  - C) Öğretmenin adı ve soyadı

- 4- Aşağıdaki hangi varlığın adı abecemizin ilk harfi ile başlar?

A)



B)



C)



İ


K

P


A

T

- 5- Yukarıdaki harfleri birer kez kullanarak aşağıdaki hangi kelime yazılamaz?
  - A) KİTAP
  - B) KALEM
  - C) PATİK
- 6- Aşağıdaki harflerden hangisi abecemizin ilk ya da son harfi değildir?
  - A) A
  - B) Z
  - C) Y
- 7-
  1. "E" ünsüz harftir.
  2. Abecemiz 29 harftir.
  3. "M" ünlü harftir.
 Yukarıdaki kaç numaralı bilgi doğrudur?
  - A) 1
  - B) 2
  - C) 3



8- Yukarıdaki görsellerden hangisinin adını deftere yazarken ilk önce ünlü harf yazılır?



9- Yanda görseli verilen varlığın adı kaç harften oluşmaktadır?



A) 5 B) 6 C) 7



10- Yukarıdaki kelimeleri birer kez kullanarak aşağıdaki hangi kelime yazılabilir?

A) EFENDİ B) DEFTER  
C) TERLİK

# OKUL

11- Yukarıdaki kelimeyi okurken ağızımızdan kaç kez ses çıkarırız?

A) 1 B) 2 C) 3

12- Aşağıdaki hangi seçenekte verilen kelimenin tek başına iken anlamı yoktur?

A) Ve B) Ev C) Et

Onun sevenleri çoktur,  
Severiz ancak soğuktur.  
Ben asla yemem diyen yoktur,  
Sadesi, çileklisi, muzlusu var.  
Mesut Yavuztürk

13- Yukarıdaki dörtlüğe uygun görsel hangisidir?



14- Aşağıdaki hangi seçenekte verilen hece aynı zamanda anlamlı bir kelimedir?

A) (-te) B) (-ti) C) (-at)

15- Aşağıdaki hangi görsel bir yönüyle diğerlerinden farklıdır?



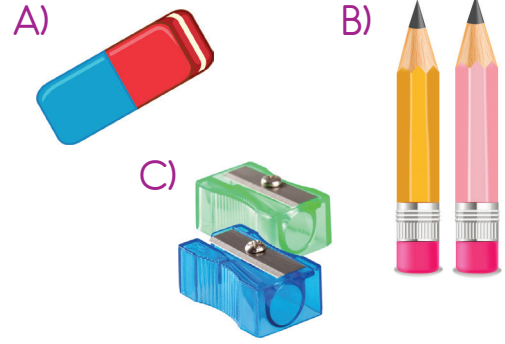
16- Aşağıdaki seçeneklerin hangisinde verilen harfleri birer kere kullanarak kelime oluşturabiliriz?



17- Aşağıdaki cümlelerin hangisinde kelimeler arasındaki boşluklar doğru verilmiştir?

- A) Ecekilalealdı.
- B) Sami ile Ada geldiler.
- C) Tuna üç muz yedi.

18- "Kuruşun kalemlerin ucunu açmak için kullanılan çeşitli şekillerdeki keski." anlamındaki ders aracının görseli aşağıdakilerden hangisidir?



19- "Gece" kelimesinin zıt anlamı aşağıdakilerden hangisidir?



- A) Gündüz
- B) Sabah
- C) Öğle

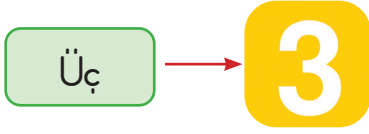
"Sabah okula erken giderim."

1 2 3

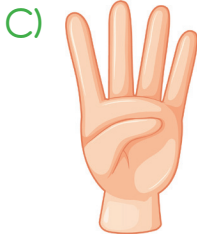
20- Yukarıdaki cümlede hangi kelimenin zıt anlamı doğru verilmiştir?

- A) 1- Öğle
- B) 2- Ev
- C) 3- Geç

TÜRKÇE TESTİ BİTTİ.  
CEVAPLARINIZI KONTROL EDİNİZ.



1- Yukarıdaki doğal sayıyı (rakamı) ifade eden görsel aşağıdakilerden hangisidir?



Beş



Yedi



Dört

2- Yukarıdaki doğal sayıların okunuşları ile eşleştirmesi hangi seçenekte doğru verilmiştir?



3- Yukarıdaki basketbol toplarının ifade ettiği doğal sayının okunuşu aşağıdakilerden hangisidir?

A) Yedi B) Sekiz C) Dokuz

4- Doğal sayıları yazmak için kullandığımız kaç tane rakam (işaret) vardır?

A) 9 B) 10 C) 20



5- Aşağıdaki seçeneklerin hangisinde verilen sayının okunuşu yanlıştır?

A) 6 → Altı

B) 15 → On beş

C) 18 → On dokuz

6- Aşağıdaki nesne gruplarından hangisinin sayısı diğerlerinden çoktur?



7- Yukarıdaki kibrit çöplerini onluk ve birliklerine ayırdığımızda kaç tane birlik olur?

- A) 5      B) 10      C) 15

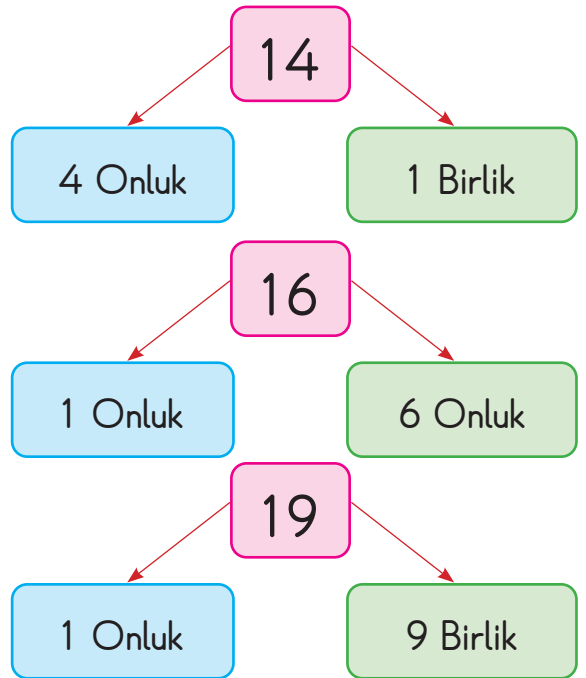
8- Aşağıdaki hangi doğal sayının birlik sayısı farklıdır?

- A) 6      B) 12      C) 16



9- Yukarıdaki yıldızların sayısı ve okunuşu hangi seçenekte doğru verilmiştir?

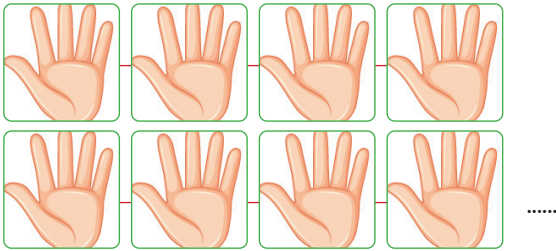
- A) 18 → On sekiz  
B) 18 → On yedi  
C) 19 → On sekiz



10- Yukarıdaki hangi doğal sayı onluk ve birliklerine doğru ayrılmıştır?

- A) 14      B) 16      C) 19

11- Aşağıdaki hangi nesne grubundan "onluk" elde edilir?



12- Yukarıdaki parmakları sayan Tuncay, kaçar kaçar ritmik sayma yapar?

- A) İkişer ikişer  
B) Beşer beşer  
C) Onar onar

13- Aşağıdaki hangi ritmik saymada ★ yerine 12 doğal sayısı yazılır?

- A) 2-4-6-8-10-★-14-16- ...  
B) 5-10-★-20-25-30- ...  
C) ★-20-30-40-50-60- ...

14- Aşağıdakilerden hangisi beşer beşer ritmik saymadır?

- A) 6-8-10-12-14-16-18- ...  
B) 12-13-14-15-16-17-18- ...  
C) 5-10-15-20-25-30-35- ...

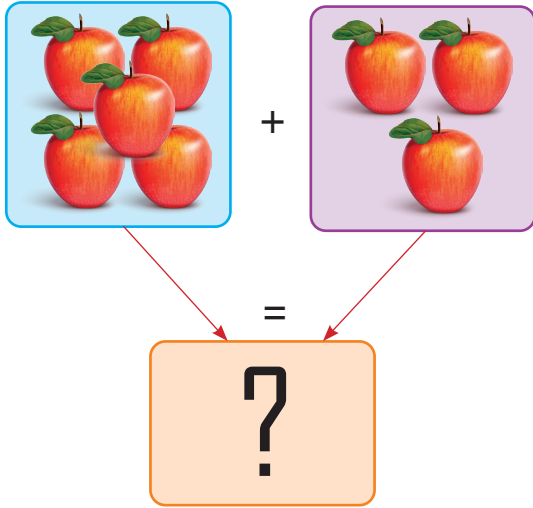
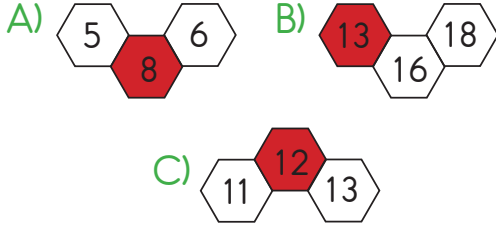


15 doğal sayısı 14 doğal sayısından .....

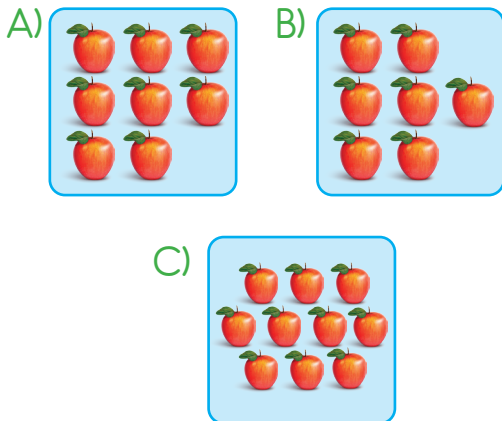
15- Yukarıdaki ifadede noktalı boşluğa aşağıdakilerden hangisi yazılırsa doğru olur?

- A) ... büyüktür.  
B) ... küçüktür.  
C) ... eşittir.

16- Aşağıdaki seçeneklerin hangisinde en büyük doğal sayı kırmızıya boyanmıştır?

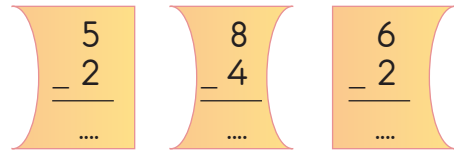


17- Yukarıdaki görselli toplama işleminde "?" yerine aşağıdakilerden hangisi gelmelidir?


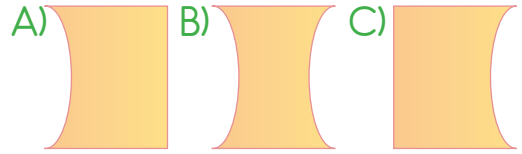


18- Aşağıdaki hangi işlemde artma olur?

A) 
$$\begin{array}{r} 8 \\ + 0 \\ \hline \dots \end{array}$$
 B) 
$$\begin{array}{r} 5 \\ + 5 \\ \hline \dots \end{array}$$
 C) 
$$\begin{array}{r} 6 \\ - 2 \\ \hline \dots \end{array}$$



19- Yukarıdaki hangi çıkarma işleminin sonucu farklıdır?



20- 10 tane balonumuz vardı. Balonların 3 tanesi patladı. Geriye kaç balonumuz kaldı?

A) 5 B) 6 C) 7

MATEMATİK TESTİ BİTTİ.  
CEVAPLARINIZI KONTROL EDİNİZ.




1- Aşağıdaki hangi öğrenci fiziksel yönden diğerlerinden farklıdır?

A)



B)



C)



2- Sınıfımızdaki bir arkadaşımızla tanışırken ona aşağıdakilerden hangisini söylemek doğru olur?

A) Adım Dilara, soyadım Ballı.

B) Annemin adı Derya.

C) Okula servisle geliyorum.

3- Aşağıdakilerden hangisi okulumuzda çalışan biridir?

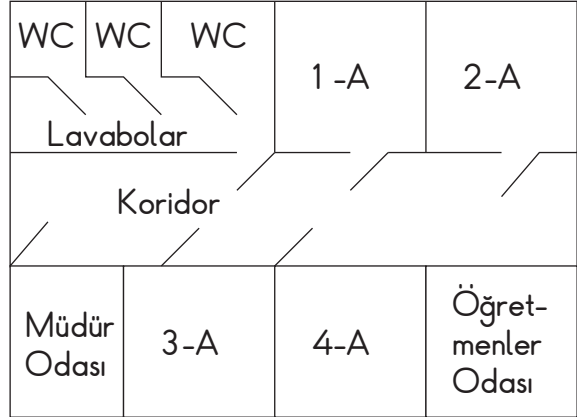
A)



B)



C)



4- Yukarıdaki okul krokisinde 1-A sınıfının sağında ve solunda aşağıdakilerden hangisi yoktur?

A) Tuvaletler

B) 2-A Sınıfı

C) Öğretmenler Odası

5- Aşağıdakilerden hangisi sınıfımıza ait bir eşya değildir?

A)



B)



C)





6- Yukarıdaki resimde öğrenciler toplanarak İstiklal Marşı söylediklerine göre, günlerden hangisi olamaz?


- A) Pazartesi  
B) Çarşamba  
C) Cuma

- ★ Derste parmak kaldırarak söz istemek.
- ▲ Tuvaletten sonra ellerimizi sabunlu su ile yıkamak.
- Derste iken tuvalet ihtiyacımızı gidermek.

7- Yukarıdaki davranışlarımızdan hangisi doğru değildir?

- A) ★ B) ▲ C) ●

8- Çarşamba günü görsel sanatlar dersi olan Serdar Ali'nin çantasında aşağıdakilerden hangisi bulunmaz?



- 9- ( ) Git başımdan!  
( ) Teşekkür ederim.  
( ) Rica ederim.

Yukarıda ifadeler nezaket açısından doğru ise (D), yanlış ise (Y) yazdığımızda sonuç ne olur?

- A) ( D ) B) ( Y ) C) ( D )  
( D ) ( D ) ( Y )  
( D ) ( D ) ( Y )

10- Aşağıdakilerden hangisi okulda yapılan bir faaliyettir?

- A) Okul bahçesinde oyun oynamak.  
B) Tablette oyun oynamak.  
C) Marketten alışveriş yapmak.

11- Kendisini tanıtan bir kart hazırlayan Sena, aşağıdaki hangi bilgiyi yazmaz?

- A) Adını ve soyadını
- B) Okul ve sınıfının adını
- C) Komşusunun adını

# AİLE

12- Yukarıdaki kavram zihninizde aşağıdakilerden hangisini çağrıştırır?

- A) Huzur ve güven
- B) Sevgi, saygı
- C) Kavga ve anlaşmazlık

13- Kendinizden yaşça büyük erkek kardeşinize ne diye hitap edersiniz?

- A) Abi
- B) Abla
- C) Amca



14 - Okulumuzda çeşitli etkinlik ve konuları işlerken yukarıdaki cihazlardan yararlanırız. Bu araçlar okulda hangi kaynağı kullanır?

- A) Su
- B) Elektrik
- C) Doğalgaz

- ▲ Anne, çabuk ol, ödevlerime yardım et.
- Abla, lütfen bana yardımcı olur musun?
- Abi, şu soruyu bilemedim. Çözmeme yardım eder misin?


15- Aile büyüklerinizden derslerimizle ilgili yardımcı olmalarını isteyebilirsiniz. Bu durumda yukarıdaki hangi sembolle eşleşen ifade yanlıştır?

- A) ▲
- B) ●
- C) ■

16- Şakir, ilkokul 1. sınıfa devam eden bir öğrencidir. Şakir'in en önemli görevi aşağıdakilerden hangisidir?



- A) Bir işte çalışmak
- B) Evi temizlemek
- C) Ödevlerini yapmak



17- Komşunuzu ziyarete gittiğinizde onları yemek yerken gördünüz. Bu durumda onlara hangi nezaket ifadesini kullanırsınız?

- A) Afiyet olsun.
- B) Rica ederim.
- C) Geçmiş olsun.

18- Okul çantamızı ne zaman hazırlamalıyız?



- A) Okuldan gelince
- B) Kahvaltıyı yaptıktan sonra
- C) Akşam yatmadan önce

19- Aşağıdakilerden hangisi sağlıklı beslenmede önemli besin kaynaklarından biridir?



20- Aşağıda görselleri verilenlerden hangisi giyinme ihtiyaçlarımızı karşılar?

A)



B)



C)



HAYAT BİLGİSİ TESTİ BİTTİ.  
CEVAPLARINIZI KONTROL EDİNİZ.  
DENEME SINAVI BİTTİ.